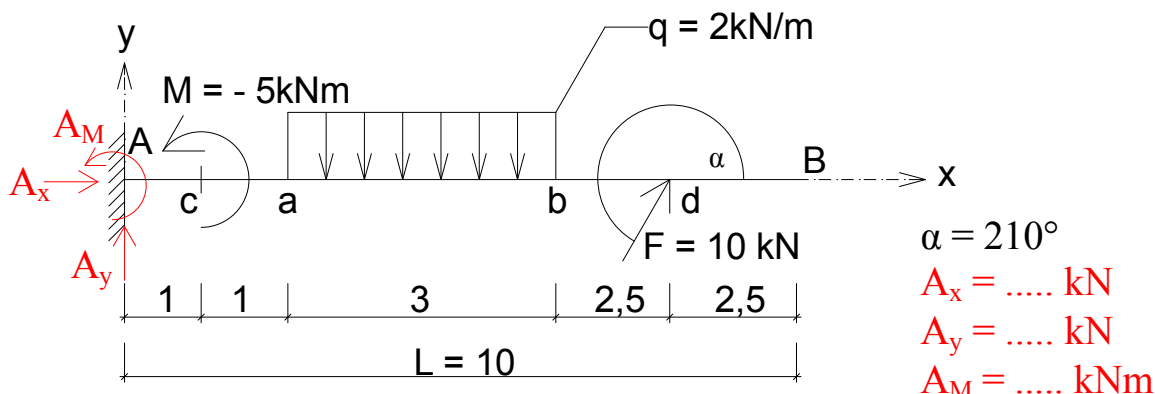


## Vzorový příklad k 1. kontrolnímu testu Konzola

### Zadání:

Vypočítejte složky reakcí a vykreslete průběhy vnitřních sil.



### Rozklad síly F

Sílu  $F$  rozložíme pomocí ostrého úhlu, který označíme jako  $\beta$ .  $\beta = \alpha - 180^\circ = 30^\circ$

$$F_x = F \cdot \cos\alpha = 10 \cdot \cos 30^\circ = 8,66 \text{ kN} \rightarrow \quad (1)$$

$$F_y = F \cdot \sin\alpha = 10 \cdot \cos 210^\circ = 5,0 \text{ kN} \uparrow \quad (2)$$

### Náhradní břemeno $Q$

Náhradní břemeno  $Q$  je rovno ploše dané velikostí spojitého zatížení  $q$  a jeho délce (v našem případě  $q \in (a; b)$ ).

$$Q = q \cdot |ab| = 2 \cdot 3 = 6,0 \text{ kN} \quad (3)$$

Poloha náhradního břemena  $Q$  leží vždy v těžišti spojitého zatížení (v našem případě rovnoměrného spojitého zatížení v polovině vzdálenosti mezi body  $a$  a  $b$ ). Nyní máme vše potřebné pro výpočet složek reakcí.

### Složky reakcí a podmínky rovnováhy

Vnější vazby zamezují v pohybu (posuvům, rotacím) konstrukce, odebírají stupně volnosti. Ve vnějších vazbách (podporách) vznikají reakce, které zajišťují rovnováhu se zatížením. Vzniká tedy rovnovážná soustava, pro kterou lze sestavit **podmínky rovnováhy**:

- Silová podmínka rovnováhy ve směru  $x \Rightarrow \sum F_x = 0$
- Silová podmínka rovnováhy ve směru  $y \Rightarrow \sum F_y = 0$

Momentové podmínky rovnováhy je výhodné položit k bodům podepření, dojde ke snížení členů v rovnici

- Momentová podmínka rovnováhy k bodu A  $\Rightarrow \sum M_i^A = 0$
- Momentová podmínka rovnováhy k bodu B  $\Rightarrow \sum M_i^B = 0$

### Výpočet složek reakcí

U konzoly je výhodné použít **silové podmínky rovnováhy ve směru  $x$  a  $y$**  a některou **momentovou podmínku rovnováhy k bodu A**, pro kontrolu využijeme momentovou podmínku k bodu B.

- Silová podmínka ve směru  $x$ , uvažovaný kladný směr  $+$   $\rightarrow$

$$\sum F_x = 0 : A_x + F_x = 0 \Rightarrow A_x = -F_x = -8,66 \text{ kN} \rightarrow \quad (4)$$

- Silová podmínka ve směru  $y$ , uvažovaný kladný směr  $+$   $\uparrow$

$$\sum F_y = 0 : A_y - Q + F_y = 0 \Rightarrow A_y = Q - F_y = 6 - 5 = 1 \text{ kN} \uparrow \quad (5)$$

- Momentová podmínka rovnováhy k bodu A, kladný smysl otáčení zvolíme  $M^+$   $\odot$

$$\begin{aligned} \sum M_i^A &= 0 : A_M + M - Q \cdot (3,5) + F_y \cdot (7,5) = 0 \Rightarrow \\ A_M &= -M + Q \cdot (3,5) - F_y \cdot (7,5) = -(-5) + 6 \cdot 3,5 - 5 \cdot 7,5 = -11,5 \text{ kNm} \end{aligned} \quad (6)$$

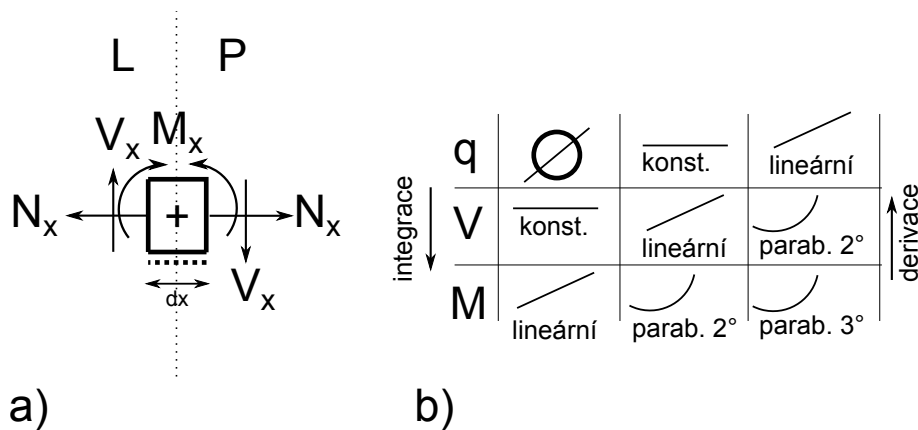
- Kontrolní momentová podmínka rovnováhy k bodu B, kladný smysl otáčení zvolíme  $M^+$   $\odot$

$$\begin{aligned} \sum M_i^B = 0 : -A_M + A_y \cdot L - M - Q \cdot (6,5) + F_y \cdot (2,5) &= 0 \\ -(-11,5) + 1 \cdot 10 - (-5) - 6 \cdot 6,5 + 5 \cdot 2,5 &= 0 \\ 0 &= 0 \end{aligned} \quad (7)$$

Nyní známe všechny složky reakcí, které jsou v rovnováze s působícím zatížením. Než přejdeme k vykreslení složek vnitřních sil, připomínám kladnou konvenci složek vnitřních sil (obrázek 1) a tvar průběhu vnitřních sil, který plyne z derivačně-integračního schématu.

### Průběhy vnitřních sil

Ve většině případů budeme postupovat zleva, za kladné uvažujeme vnitřní síly dle levé části obrázku 1a.



Obrázek 1: a) Kladný smysl vnitřních sil pro levou i pravou část nosníku. b) Tvar průběhu vnitřních sil - derivačně integrační schéma.

### Normálové síly $N_x$

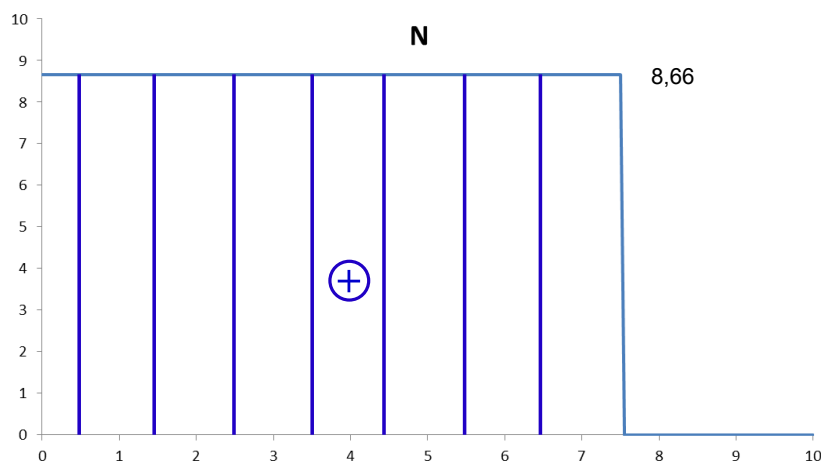
V bodě 0 působí reakce  $A_x$  v opačném smyslu než uvažovaný kladný směr (způsobuje tlak v nosníku). Pak:

$$N_{x,0} = -A_x = -(-8,66) = 8,66 \text{ kN} \quad (8)$$

Postupujeme-li zleva narazíme na další sílu působící ve směru osy nosníku (osy  $x$ ) až v bodě  $d$ . Po bod  $d$  zůstává normálová síla  $N_x$  konstantní a rovna  $N_{x,0}$ . V bodě  $d$  dojde vlivem  $F_x$  ke změně v průběhu normálové síly. Síla  $F_x$  působí v opačném směru jako je kladná konvence normálové síly při postupu zleva

$$N_{x,d} = -A_x + F_x = -(-8,66) - 8,66 = 0,0 \text{ kN} \quad (9)$$

Na zbylé části nosníku již žádná síla ve směru  $x$  nepůsobí, průběh normálových sil se tedy nezmění.



Obrázek 2: Průběh normálových sil.

## Posouvající síly $V_x$

V bodě 0 působí reakce  $A_y$  v shodném smyslu jako uvažovaný kladný směr. Pak:

$$V_{x,0} = A_y = 1,0 \text{ kN} \quad (10)$$

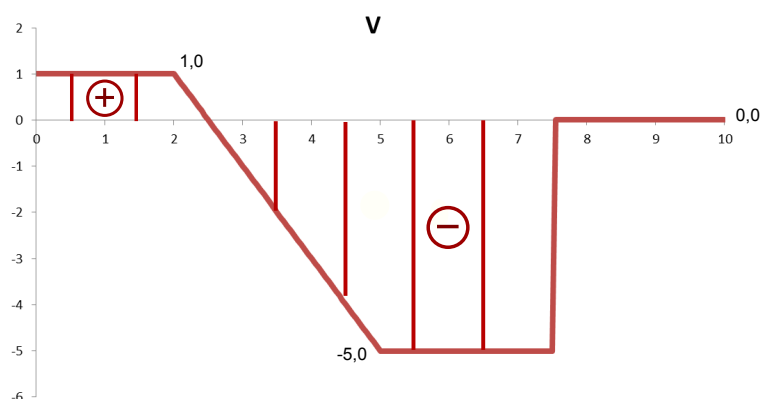
Postupujeme-li zleva narazíme na další sílu působící ve směru osy  $y$  až v bodě  $a$ . Po bod  $a$  zůstává posouvající síla  $V_x$  konstantní a rovna  $V_{x,0}$ . Od bodu  $a$  po bod  $b$  působí spojité zatížení o intenzitě  $2 \text{ kN/m}$ . Je-li spojité zatížení konstantní bude průběh posouvající síly  $V_x$  v tomto úseku lineární a bude klesat s intezitou  $q$  až do bodu  $b$ . V bodě  $b$  je tedy posouvající síla rovna

$$V_{x,b} = A_y - q \cdot |ab| = 1 - 2 \cdot 3 = -5 \text{ kN} \quad (11)$$

Od bodu  $b$  pod bod  $d$  zůstává posouvající síla opět konstantní a rovna  $V_{x,b}$ . V bodě  $d$  začne působit  $y$ -složka síly  $F$ , dojde ke skoku v průběhu posouvající síly.

$$V_{x,d} = A_y - q \cdot |ab| + F_y = 1,0 - 2 \cdot 3 + 5 = 0,0 \text{ kN} \quad (12)$$

Postupujeme-li dále po nosníku nenarazíme na další sílu ve směru  $y$ , síla zůstává konstantní o velikosti  $0,0$ .



Obrázek 3: Průběh posouvajících sil.

## Ohybový moment $M_x$

Postupujeme-li zleva uvažujeme za kladný smysl otáčení účinky působící ve směru hodinových ručiček. V bodě 0 působí reakce  $A_y$  v shodném smyslu jako uvažovaný kladný směr, ale na nulovém rameni  $r$  a také reakce  $A_M$  působící v záporném smyslu. Pak:

$$M_{x,0} = A_y \cdot 0 - A_M = -(-11,5) = 11,5 \text{ kNm} \quad (13)$$

Další bod, ve kterém určíme velikost momentu, bude bod  $c$ , v němž působí osamělý moment  $M$ . Nejprve určíme hodnotu těsně vlevo před bodem  $c$ . Mezi body  $A$  a  $c$  nepůsobí spojité zatížení, průběh ohybových momentů bude lineární (dle derivačně-integračního schématu).

$$M_{x,c}^L = A_y \cdot |0c| - A_M = 1,0 \cdot 1 - (-11,5) = 12,5 \text{ kNm} \quad (14)$$

V bodě  $c$  nastane skok vlivem osamoceního momentu  $M$ , jehož účinek je záporný.

$$M_{x,c}^P = A_y \cdot |0c| - A_M - M = 1,0 \cdot 1 - (-11,5) - (-5) = 17,5 \text{ kNm} \quad (15)$$

Další bodem ve výpočtu bude bod  $a$ , v něm určíme moment následujícím způsobem

$$M_{x,a} = A_y \cdot |0a| - A_M - M = 1,0 \cdot 2 - (-11,5) - (-5) = 18,5 \text{ kNm}. \quad (16)$$

Pokračujeme bodem  $b$ . Mezi body  $|ab|$  působí spojitě zatížení  $\Rightarrow$  průběh momentů bude parabola 2<sup>o</sup>.

$$M_{x,b} = A_y \cdot |0b| - A_M - M - Q \cdot \frac{|ab|}{2} = 1,0 \cdot 5 - (-11,5) - (-5) - 6 \cdot 1,5 = 12,5 \text{ kNm}. \quad (17)$$

Moment k bodu  $d$  si určíme postupem z levé i z pravé strany nosníku.

$$M_{x,d}^L = A_y \cdot |0d| - A_M - M - q \cdot |ab| \cdot \left(|0d| - \frac{a+b}{2}\right) = 1,0 \cdot 7,5 - (-11,5) - (-5) - 2 \cdot 3 \cdot 4 = 0,0 \text{ kNm}. \quad (18)$$

Z pravé strany nosníku nepůsobí žádné zatížení, síla v bodě  $b$  je rovna 0.

$$M_{x,d}^P = F_y \cdot 0 = 5,0 \cdot 0 = 0,0 \text{ kNm}. \quad (19)$$

Mezi body  $b$  a  $B$  je průběh ohybového momentu konstantní a je roven 0,0. Lokální maximum ohybového momentu se nachází v tzv. místě přechodového průřezu, tj. místo, v němž je posouvající síla rovna 0. Toto místo označme jako  $X$ . Polohu  $X$  určíme z následující rovnice

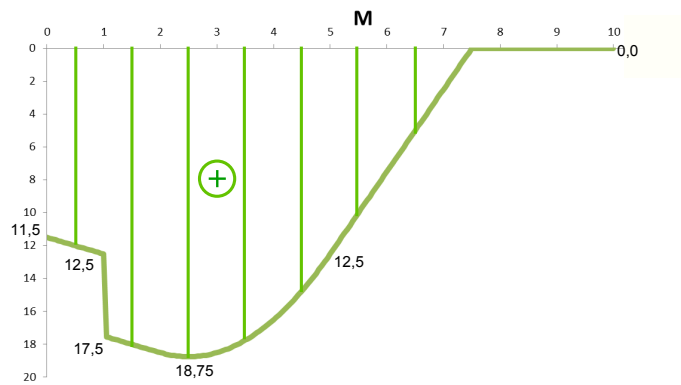
$$V_{x,a} - \int_a^X q \, dx = 0, \quad (20)$$

integrál  $\int_a^X q \, dx$  je plocha spojitěho zatížení mezi body  $a$  a  $X \Rightarrow \int_a^X q \, dx = q \cdot |aX|$ . Pak lze v tomto případě jednoduše určit vzdálenost  $|aX|$  jako:

$$|aX| = \frac{V_{x,a}}{q} = \frac{1}{2} = 0,5 \text{ m}. \quad (21)$$

V tomto místě bude maximální ohybový moment, který vyjádříme například zleva takto:

$$M_{x,X} = A_y \cdot |0X| - A_M - M - q \cdot |aX| \cdot \frac{|aX|}{2} = 1,0 \cdot (2+0,5) - (-11,5) - (-5) - 2 \cdot 0,5 \cdot \frac{0,5}{2} = 18,75 \text{ kNm}. \quad (22)$$



Obrázek 4: Průběh ohybových momentů.

## Shrnutí

Doufám, že vám následující příklad pomůže zvládnout bez problémů 1. kontrolní test, který vás čeká v 5. týdnu výuky.